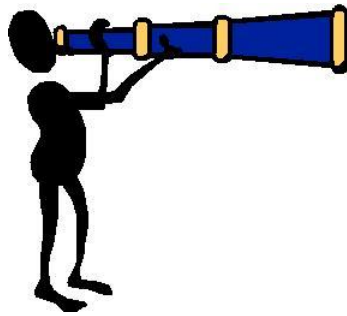


PRENOM:.....

NOM:.....

CLASSE:.....

Travail de recherche 5ième et 6ième année



NAVIGO - Nationaal Visserijmuseum
Pastoor Schmitzstraat 5, 8670 Oostduinkerke
Tel. 058/512468 fax: 058/510817
www.navigomuseum.be info@navigomuseum.be

Feuillets éducatifs

“La maison du pêcheur”

Question 1

Ceci est la réserve. Quelles provisions y conserve-t-on?

Enumérez 5 aliments:

1.
2.
3.
4.
5.



“Pêche sur la plage”

Question 2




En néerlandais, cette femme s'appelle une 'kruwster'.

Qu'est-elle en train de faire?

.....

Question 3



Dans quelle commune trouve-t-on encore des pêcheurs de crevettes à cheval?

.....

Aujourd'hui, ces pêcheurs à cheval sont un phénomène unique. Autrefois, cette méthode de pêche à la crevette se pratiquait également dans d'autres pays. Les quels?

.....

Question 4



Un des filets ne servait pas à attraper des poissons, mais des oiseaux. Pourriez-vous trouver de quel filet il s'agit?

Notez le nom du filet ou dessinez-le.

K.....

Question 5

Surtout après une tempête. Les habitants allaient sur la plage à la recherche d'objets ou de matériaux utilisables. Cela s'appelait 'jutten', écumer.

A quoi servaient les étoiles de mer que l'on collectait?

.....



Question 6



La mer et la vie étaient pour de nombreux artistes une source d'inspiration.

Quel artiste n'a pas sa place dans la liste?

Rayez-le.

- Aloïs Boudry
- Georges Teugels
- Albert Crahay
- Vincent Van Gogh
- Edgard Farasyn

Question 7



On ne dit pas "faire des filets".

On dit

Tisser

Coudre

Tricoter

Crocheter

Dans la vitrine l'on voit également des "kneken", des pièges avec des crochets en fer.

A quoi servaient-ils?

.....

Rendez-vous maintenant à l'étage.

"Croyance et superstition"

Question 8

Complétez.

Dans toute la solitude et l'isolement de la pleine mer, sans aucun contact avec la terre ferme et livrés à des tempêtes effrayantes, les pêcheurs étaient particulièrement sensibles à la

Question 9



De quoi s'agit-il?

.....

Question 10



Sur cette photo vous voyez la statue du Saint Patron des pêcheurs.

De quel Saint s'agit-il?

Redescendez et allez vers la droite ou vous arrivez dans la galerie représentant les grands évènements de l'histoire de la pêche.

"La pêche par le passé"

Question 11

Autrefois, beaucoup de pêcheurs avaient un surnom. Voici la photo d'Engelbertus Franciscus Legein.

Surnommé



Question 12



Complétez.

Ce bateau, un "topzeilschoener" partait de Dunkerque vers L'Islande. Comment appelait-on ce bateau en français?

.....

Le voyage durait de à L'on emportait également des tonneaux vides. Entre des couches de sel, on conservait le

Question 13

Autrefois, la région côtière comptait de nombreuses écoles de pêche ou l'on recevait une formation de pêcheur.

Enumérez 2 cours que ces élèves devaient suivre.

1.

2.

"Chantier naval"

Question 14



Le long de nos côtes, il y avait de nombreux chantiers navals. Sur cette photo vous voyez 5 figures de proue que les constructeurs mettaient à l'avant du bateau.

C'était une sorte d'enseigne commerciale qui permettait d'identifier dans quel chantier naval le bateau avait été construit.

Enumérez 5 chantiers navals.

1.
2.
3.
4.
5.

Question 15

Les objets se trouvent dans les tiroirs de l'armoire.



Mettez le bon chiffre sous la bonne photo.

1. Doloire 2. Rabot 3. Marteau à river 4. Marteau à calfater

Continuez jusque dans la grande salle.

“Pêche côtière et pêche maritime”

Question 16

Reliez à l'aide d'une flèche le nom exact avec le bon bateau.

Blankenbergse schuit



Panneschuit



Hoogaars



Kotter als haringdrifter



Topzeilschoener



Question 17

Ceci n'est pas l'alphabet que nous apprenons à l'école.

De quel alphabet s'agit-il?

.....

Quelles lettres envoyait-on en cas de situation d'urgence?

---	A	---	N	-----	1	
----	B	----	O	-----	2	
-----	C	-----	P	-----	3	
----	D	-----	Q	-----	4	
---	E	----	R	-----	5	... --- ...
-----	F	---	S	-----	6	
----	G	-	T	-----	7	
----	H	---	U	-----	8	
..	I	----	V	-----	9	
-----	J	----	W	-----	0	
----	K	----	X	-----	*	
----	L	-----	Y			
---	M	-----	Z		

Question 18

A quoi servait ce tonnelet?

- Comme bouée
- A faire flotter des filets
- A conserver du poisson
- A emporter de l'eau de vie



Question 19

Un marin ne parle de gauche et de droite, mais de bâbord et de tribord. Tribord est aussi le côté vert.

Quel côté indique-t-on ici?

.....


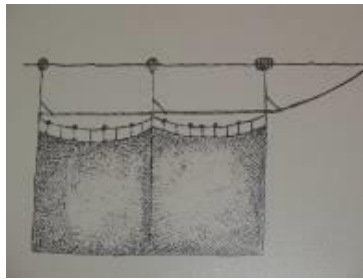


Sur le bateau, lorsque l'on regarde vers l'avant, bâbord se trouve à et tribord à

Descendez tranquillement les escaliers.

"Le Royaume de Neptune"

Question 20



Mettez le bon chiffre sous la bonne photo.

1. Le filet à l'étaglage 2. Le filet flottant à harengs 3. Le chalut à perche
4. Le chalut à planches ou panneaux

Question 21



Quel poisson vous voyez ici sur cette photo?

.....

Question 22

Trouvez-moi dans l'aquarium. Je suis un poisson plat et j'ai des points rouges.

Je suis quell poisson?

.....

Rendez-vous au premier étage.

"Préparation du poisson"

Question 23

Le poisson est actuellement vendu dans les poissonneries ou dans les supermarchés.

Où était vendu le poisson autrefois?

Sur le quai

Sur la plage

Dans l'église

Sur le trottoir le long
de la rue

Question 24



Des fumoirs étaient présents aussi bien le long de la côte que dans l'intérieur du pays.

Désignez une sorte de poisson qui était souvent fumé et est encore disponible sur le marché:

Le h.....

Question 25

Compétez

Vous voyez ci-dessous une étiquette de la firme Carbonnez de Nieuport.

Pour quel produit font-ils de la publicité?

