



PRENOM:.....

NOM:.....

CLASSE:.....

Recherche pour la 1^{ère} et la 2^{ème}



NAVIGO

NATIONAAL VISSERIJMUSEUM OOSTDUINKERKE

NAVIGO - Nationaal Visserijmuseum
Pastoor Schmitzstraat 5, 8670 Oostduinkerke
Tel. 058/512468 fax: 058/510817
www.navigomuseum.be info@navigomuseum.be

1


Maison de pêcheur

Objectif: tri et le comptage des objects.

Quels éléments appartiennent a la cuisine de la maison du pêcheur.

Tracer un cercle autour de l'objet.

Combien d'objets comptez vous? Coloriez le nombre correct de pois de couleur.



	<input type="radio"/>	<input type="radio"/>	<input type="radio"/>	<input type="radio"/>	<input type="radio"/>
	<input type="radio"/>	<input type="radio"/>	<input type="radio"/>	<input type="radio"/>	<input type="radio"/>

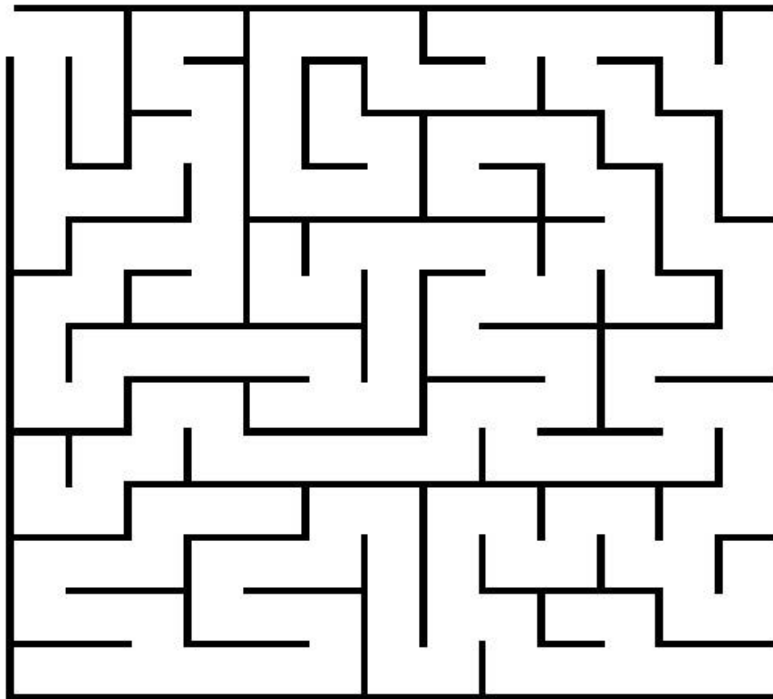
J'ai trouvé ceci 😊 ☹️

Pêche de plage

La pêcheur à cheval va à la mer avec son cheval pour attraper des crevettes avec son chalut.

Objectif: orientation spatiale.

Sam aimerait voir les pêcheurs à cheval dans la mer. Mais quelle route prennent-ils?? Allez-vous aider Sam à trouver le chemin de la plage?



J'ai trouvé ceci 😊 ☹️


Croyance et superstition

La plupart des pêcheurs avaient peur du Roesschaert. Certains ont cru qu'il existait vraiment.

Il avait la tête d'un cabillaud, le corps d'un homme et la queue d'une sirène.

Objectif: Création dessin d'un objet.

Dessinez l'objet de plus loin.



J'ai trouvé ceci 😊 ☹️

La pêche en l'Islande



Les pêcheurs d'Islande allaient pour attrape du cabillaud.
Il gaisait très froid.

Objectif: compter

Savez-vous combien de mois, les pêcheurs partaient pour l'Islande ?
Comptez les cases et remplissez le bon nombre sur la ligne pointillée.

MARS	AVRIL	MAI	JUIN	JUILLET	AOÛT
------	-------	-----	------	---------	------



.....mois

J'ai trouvé ceci 😊 ☹️

La pêche dans le passé

Recherchez ce bateau dans la galerie.



Objectif: regard intense.

Sur un bateau il y a une lettre, ici la lettre O. du port d'attache Ostende.
En plus de la lettre, il y a aussi un nombre.

Marque: trouvez les 2 autres chiffres.

0.2.....

J'ai trouvé ceci 😊 ☹️

Un chantier naval historique

Utilisez vos muscles

Objectif: argument de la compréhension, agrandissement et superlatif.

Essayez de lever les tonneaux.

Maintenant écrivez un chiffre dans les tonneaux ci-dessous.

Lourd 1, plus lourd 2, le plus lourd 3.



J'ai trouvé ceci 😊 ☹️

7

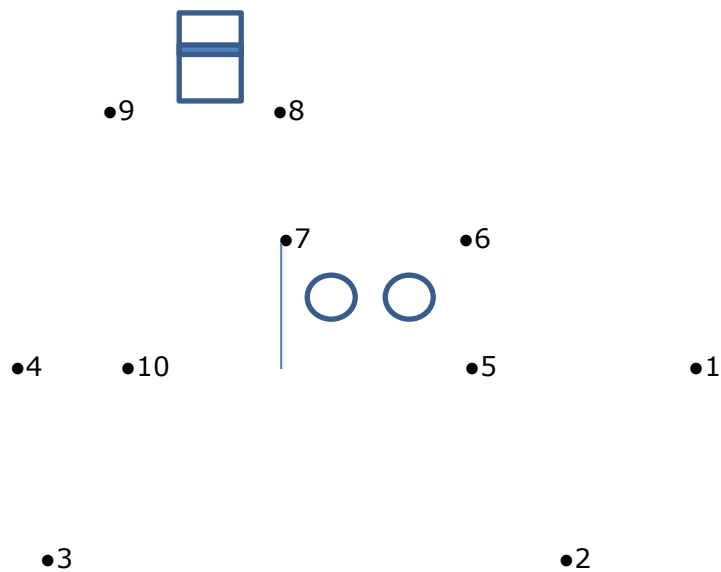
Pêche côtière et maritime

Dans cette salle, vous-pouvez voir beaucoup des bateaux. Du voilier au navire à moteur.

Objectif: reconnaître les chiffres, en comptant de 1 à 10.

Il s'agit d'un voilier ou un navire à moteur?

Reliez les points de 1 à 10







J'ai trouvé ceci 😊 ☹️

Le Royaume de Neptune

Ici vous pouvez voir quelques animaux de la mer du Nord.

Objectif: regard intense, même recherche de forme.

Trouvez l'ombre de tous ces animaux de la mer du Nord. Tracez un trait de vers la bonne ombre.



Poisson à colorier

Un autre mission pour dans la classe.

Objectif: trouver la joie et épanouissement dans la forme visuelle.

Coloriez ce poisson et faite usage d'autant de couleurs que possible.

